

BALADES LUDIQUES POUR PETITS ET GRANDS

Montfuron



© OTC Durance Lubéron Verdon Tourisme



Visiter,
se balader,
s'amuser!



Destination
HAUTE-PROVENCE
DURANCE LUBERON VERDON

Office de Tourisme et des Congrès
Durance Lubéron Verdon Tourisme
Bureau d'Information Touristique de
Gréoux-les-Bains
7, Place de l'Hôtel de Ville
04800 - GREOUX-LES-BAINS
04 92 78 01 08
greouxlesbains@tourisme-dlva.fr
www.greouxlesbains.com
www.durance-luberon-verdon.fr

Difficile



5 km

3 h 00

Montfuron

Départ : Parking de la médiathèque vers l'église

GPS : 43.836281N / 5.694374E

La grande fierté de ce village serein du Luberon ? Son moulin à vent vieux de 350 ans ! Construit sous Louis XIV, cet unique moulin à vent de la région est encore aujourd'hui en état de fonctionner grâce aux récentes restaurations qu'il a connues. Dressé fièrement sur sa butte, non loin du village, il fait immédiatement penser à celui d'Alphonse Daudet et aux poétiques Lettres de mon moulin.

La pierre sèche c'est un peu la marque de fabrique du Luberon ; ici vous pourrez en admirer toutes les nuances de gris selon la position du soleil. Le belvédère surplombant la commune offre une vue à 360° sur un paysage poétique et inoubliable.

Carnet de route

Soyez vigilants avec vos enfants notamment sur les zones non piétonnes. Le parcours s'effectue sous votre entière responsabilité. La société Randoland et l'Office de Tourisme déclinent toute responsabilité en cas d'accident.

Randoland sportive (2 bonnes heures de marche) et exposée au soleil. En saison estivale éviter les heures chaudes et munissez-vous de chapeaux, protection solaire et d'eau en quantité suffisante (2 litres par personnes).

Se garer sur le grand parking vers le terrain de tennis et la médiathèque, à côté de l'église. Quitter le parking en direction de l'église sans manquer d'observer la croix ①.

S'engager dans les petits escaliers en dessous de l'église. Arrivé sur la place observer le monument aux morts et le clocher ②.

S'engager dans la rue Grande et passer devant le restaurant. Continuer dans cette rue puis prendre à gauche la montée du Château pour vous rendre vers la table d'orientation. ③.

Redescendre par là où vous êtes venus. Au croisement prendre à gauche pour passer sous vestiges du château. Arrivé devant une tour ronde prendre le chemin complètement à droite (balisage trait jaune) et rester sur ce chemin jusqu'au croisement des chemins. Observer l'arbre imposant sur la gauche marqué d'une croix jaune ④.

Continuer en montant tout droit. Arrivée à la route prendre à droite jusqu'au petit panneau du moulin à Plâtre (dont les vestiges sont de l'autre côté de la route principale) ⑤.

S'engager à droite dans la pinède sur le sentier du moulin à vent de Montfuron. Rester sur ce sentier balisé. Au croisement avec la route observer la maison sans traverser la route ⑥.

S'engager ensuite sur la petite route

qui monte légèrement en direction de Montfuron. Peu après le panneau « attention troupeaux » prendre sur la droite le chemin balisé. Continuer ensuite sur la route en direction du village. Au carrefour des routes, aller tout droit et observer les animaux volants de la sculpture sur la droite ⑦.

Plus loin tourner à gauche sur le chemin pour se rendre au moulin à vent ⑧. Descendre devant l'entrée du jardin des papillons et continuer sur la droite en direction du village. À la route, tourner à gauche pour retourner au parking de départ.






Montfuron

L'Inspecteur Rando (en bas à gauche) part en balade. Mais par où va-t-il passer ?

Pour découvrir le chemin emprunté, réponds aux questions de la page suivante. Chaque réponse t'indiquera l'étape suivante de l'Inspecteur Rando dans le labyrinthe. Attention, l'Inspecteur Rando ne doit jamais revenir sur ses pas et prend le chemin le plus court ! Chaque fois qu'il trouvera une châtaigne sur sa route, entoure, dans l'ordre, une châtaigne de la frise. En fin de parcours, note dans la case réponse le nombre de châtaignes trouvées.



Tu peux te rendre à l'Office de Tourisme ou sur le site www.randoland.fr pour vérifier ta réponse (code énigme 0418201P).

1	2	3	4	5	6	7	8	9	10	

Ta réponse



1 La croix

Quelle photo correspond à cette croix ?
Tu vas découvrir quel fruit ou légume éliminer.



2 La place de la mairie

Place-toi du côté de l'aire de jeux. Lève la tête et observe la partie en pierre de l'édifice religieux. Que vois-tu ?



3 La table d'orientation

Dirige-toi vers la table ronde. Demande à un « grand » de te montrer le nom du vent d'est. Quelles étiquettes lui correspondent ?



4 L'arbre

Quelle écorce ressemble à celle de cet arbre ?



5 Le moulin à plâtre

Demande à un « grand » de te montrer l'altitude à laquelle tu te trouves. Quel nuage de chiffres lui correspond ?




6 La maison

Observe cette maison sans traverser la route. Combien de fenêtre comptes-tu au dernier étage ?




7 La sculpture

Quel animal est représenté en train de voler sur cette sculpture ?



8 Le moulin à vent

Observe la girouette au sommet du moulin. Quel dessin lui correspond ?





ÉNIGME

Sablé provençal, virgule et chiffre ont un point commun. Lequel ? Cette question intrigue l'inspecteur Rando, pourtant habitué aux énigmes. Il a beau réfléchir, il ne voit pas : pour lui, le premier se mange, la deuxième est un signe de ponctuation et le dernier lui rappelle les mathématiques. Il s'agit en fait de noms donnés à des papillons, jolis insectes que l'on peut apercevoir dans le jardin qui leur est dédié à Montfuron. Et comme on en apprend tous les jours, peu importe l'âge, l'inspecteur Rando vient aussi de découvrir le nom porté par ceux qui étudient les papillons.

Pour voir si tu es aussi doué(e) que tu le laisses paraître, l'inspecteur Rando te met au défi de trouver ce drôle de nom qu'on donne au spécialiste qui s'intéresse à ces jolies petites bêtes.



© Neosiam

À chaque point indice, lis bien les indications de la page suivante et reporte tes réponses sur la grille de bas de page.

Tu disposes du plan ci-dessous. À l'emplacement des pastilles numérotées, lis les indications qui te permettront de résoudre l'énigme principale.

À ton retour à la maison, avec l'aide de tes parents, rends-toi vite sur le site randoland.fr pour vérifier ta réponse.





Pour toutes les activités de cette fiche, reporte dans la grille de bas de page les réponses trouvées en face des nombres correspondants.

1 La croix

Voici trois photos : laquelle correspond à cette croix ?



9

12

18

Remplace le nombre sous le bon dessin par la lettre de l'alphabet qui lui correspond.

Ex. : 1 → A ; 2 → B ; 3 → C ; etc.

Note cette lettre dans la grille.

2 La place de la mairie

Aide-toi de la plaque du monument aux morts pour trouver la réponse.

"Je suis mort à l'âge de 34 ans, au printemps. Qui suis-je ?"

Note dans la grille le prénom de ce jeune homme.

UN PEU D'INFO

- Hiver : 21 décembre au 19 mars
- Printemps : 20 mars au 20 juin
- Été : 21 juin au 21 septembre
- Automne : 22 septembre au 20 décembre

3 La table d'orientation


Aide-toi de la table ronde des vents. Combien y a-t-il de vents en Provence ? Quel est le chiffre des unités de ta réponse ?

Inscris ce chiffre, en lettres, dans la grille.

Ex. : 21 → 1 → UN.

4 L'arbre

Approche-toi de l'arbre et observe son écorce. Quelle photo ci-dessous y ressemble beaucoup ?



CAMILLE

IVANHOÉ

MAXENCE

Note le prénom indiqué sous la bonne photo.

5 Le moulin à plâtre

L'inspecteur Rando a un trou de mémoire. Aide-toi du panneau sur ton chemin pour compléter sa phrase : "Cet ancien moulin à vent servait à broyer le _____ pour le transformer en plâtre."
Reporte le mot découvert dans la grille.

6 La maison

Observe cette maison sans traverser la route. Combien de fenêtre comptes-tu au dernier étage ?

Multiplie ta réponse par 4 et ajoute 1.

Reporte ton résultat, en lettres, dans la grille.

7 La sculpture

Compte les animaux qui volent sur cette sculpture et choisis l'expression dans laquelle on retrouve ce nombre.

JULIETTE : Les ... faces d'un dé.

BAPTISTE : Deux mains, ... doigts.

CHARLINE : Les ... mois de l'année.

Note le prénom de celui qui a fait la bonne proposition dans la grille.

8 Le moulin à vent

Quel dessin correspond à la girouette du moulin ?



11

8

5

Inscris, dans la grille et en lettres, le nombre noté sous le bon dessin.

Grille réponse

Circuit n°0418201M

1	▶									
2	▶									
3	▶									
4	▶									
5	▶									
6	▶									
7	▶									
8	▶									



Remets en ordre les caractères des cases colorées pour trouver le nom donné à celui qui étudie les papillons.

Ta réponse :





Montfuron

ÉNIGME

Si certains souffrent de lépidophobie (peur des papillons), ce n'est pas le cas de Mia qui se passionne pour ces insectes depuis toute petite. Elle ne se lasse pas d'en apprendre sur eux car il en existe tellement : des petits, des grands, avec des couleurs surprenantes, des "motifs" dignes de grands peintres...

Alors, quand ses parents lui proposent d'aller se balader au jardin des papillons de Montfuron, un énorme "OUI" retentit dans la maison. Son appareil photo sous le bras, elle prend le temps d'observer cette nature qui l'entoure puis immortalise chacun des modèles. Si tous ses clichés sont superbes, elle a dû patienter de longues minutes pour prendre l'un d'eux.

Mène l'enquête pour découvrir avec l'inspecteur Rando quel papillon s'est fait désirer pour être photographié.

© fotografierende



Liste des papillons

- ▶ **Gazé** - famille : pieridae / envergure : 45 à 60 mm
- ▶ **Écaille martre** - fam. : erebidae / env. : 45 à 65 mm
- ▶ **Demi-deuil** - fam. : nymphalidae / env. : 40 à 50 mm
- ▶ **Citron** - fam. : pieridae / env. : 50 à 60 mm
- ▶ **Sylvaine** - fam. : hesperiidae / env. : 25 à 34 mm
- ▶ **Azuré du thym** - fam. : lycaenidae / env. : 15 à 20 mm
- ▶ **Zygène occitane** - fam. : zygaenidae / env. : 28 à 34 mm
- ▶ **Petit Apollon** - fam. : papilionidae / env. : 30 à 40 mm
- ▶ **Machaon** - fam. : papilionidae / env. : 60 à 90 mm

À chaque point indice, lis bien les indications de la page suivante et reporte tes réponses sur la grille de bas de page.

Tu disposes du plan ci-dessous. À l'emplacement des pastilles numérotées, lis les indications qui te permettront de résoudre l'énigme principale.

À ton retour à la maison, avec l'aide de tes parents, rends-toi vite sur le site randoland.fr pour vérifier ta réponse.



© Randoland 2020 - © IGN 2 020 Autorisation n° 156454-200458



Lors du passage devant chacun des indices lis attentivement les indications fournies. Elles te permettront de résoudre l'énigme posée au verso de cette page.

1 La croix

Des amis ont repéré la forme particulière aux extrémités de la croix. Dans quelle expression peux-tu trouver ce mot ?

ANNABELLE : Avoir mal au ...

CORENTIN : Qui s'y frotte s'y ...

MARGAUX : Un ... à quatre feuilles

Supprime de la liste le nom du papillon qui compte autant de lettres que le prénom de celui qui a raison.

2 La place de la mairie

Rends-toi vers le monument aux morts. Quel nom porte celui qui est mort le plus jeune ? Sachant qu'une consonne vaut + 10 et une voyelle - 1, calcule sa valeur.

Ex. : **RANDO** = 10 - 1 + 10 + 10 - 1 = 28

L'envergure d'un des papillons peut correspondre au résultat découvert. Ce n'est pas celui recherché.

3 La table d'orientation

L'un vient de l'est, l'autre du sud-ouest. Pourtant, ils ont un point commun : ces deux vents commencent par la même initiale. Laquelle ?

La famille de papillons dont le nom commence également par cette lettre n'est pas celle du papillon de Mia. Raye-le de la liste !

4 L'arbre

Parmi les photos ci-dessous, laquelle correspond à l'écorce de l'arbre que tu as face à toi ?



GAIA



LIAM



IRIS

Le nom donné à l'une des familles de papillons possède toutes les lettres du prénom noté sous la bonne photo. Tu peux l'éliminer de la liste.

5 Le moulin à plâtre

Aide-toi du panneau pour compléter le texte à trous avec les lettres ci-dessous :

A E G G N O P R S U X Y

Dans cet ancien moulin à vent appelé "moulin des _ _ _ _ _", on broyait le _ _ _ _ _ pour le transformer en plâtre.

La lettre en trop n'a pas sa place dans le nom du papillon recherché. Supprime-le de la liste !

6 La maison

Observe cette maison sans traverser la route. Combien de fenêtre comptes-tu au dernier étage ?

Multiplie ta réponse par 15 et ajoute 5.

Le résultat correspond exactement à l'envergure maximale (la plus grande) d'un des papillons. Élimine-le de la liste car ce n'est pas lui que tu recherches !

7 La sculpture

Compte le nombre d'animaux et amuse-toi à doubler leur nombre. Quel est ton résultat ?

Le papillon dont l'envergure minimale est la plus proche de ton résultat n'est pas celui que Mia a mis du temps à photographier.

8 Le moulin à vent

Quel dessin correspond à la girouette du moulin ?



7

5

3

Remplace le chiffre inscrit sous le bon dessin par la lettre ayant cette position dans l'alphabet.

Ex. : 1 → A ; 2 → B ; 3 → C ; etc.

Le papillon dont le nom commence par cette lettre n'est pas celui recherché. Supprime-le de la liste !

Circuit n° 0418201G

Tu devrais maintenant connaître le papillon pour lequel Mia a fait preuve de patience.

Ta réponse :

Tu peux vérifier ta réponse à l'Office de Tourisme ou sur le site internet Randoland.fr